

# Übung: Zähle?BEINE!



**Gleich siehst Du 5 Felder. In den Feldern sind Bilder von Menschen und Tieren. Manchmal stehen auch Wörter darin.**


**Deine Aufgabe:**

**Zähle die **Beine** in jedem Feld:**

**In welchem Feld sind die **meisten** Beine?**

**Hinweis:** Einzelne Bilder können auch in 2 Feldern liegen und müssen dann für beide Felder gezählt werden.


# Zähle?BEINE!




BEIN



*Gesucht: Das Feld mit den meisten Beinen*



BEIN



BIENE

BEIN



BEIN

BEIN

**Zähle?BEINE!**

**ACHTUNG –  
Lösung auf der nächsten Seite !**

# Zähle?BEINE!



BEIN

14



17



BEIN  
1



15



1  
BEIN

1  
BEIN



16



BIENE



BEIN  
1



19

Lösung



BEIN  
1